

EVALUARE SUMATIVA-sem I

DS-Activitate matematica

1. Coloreaza mingea mare, copilul inalt, pensula subtire si incercuieste copilul care se afla mai aproape de copac.



2. Deseneaza in casute tot atatea elemente cate iti indica cifra.

7	1	5	3	6	4	2

3. Completeaza cifrele care lipsesc. Incercuieste vecinii numarului 6.


0 **2** **5**

7 **6** **4** **1**



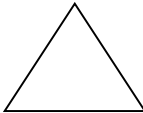

4.

Coloreaza cu rosu

cercurile, cu albastru patratele, cu galben triunghiurile si cu verde dreptunghiurile.




5. Numara figurile geometrice de mai sus si scrie in casete cate sunt din fiecare fel .

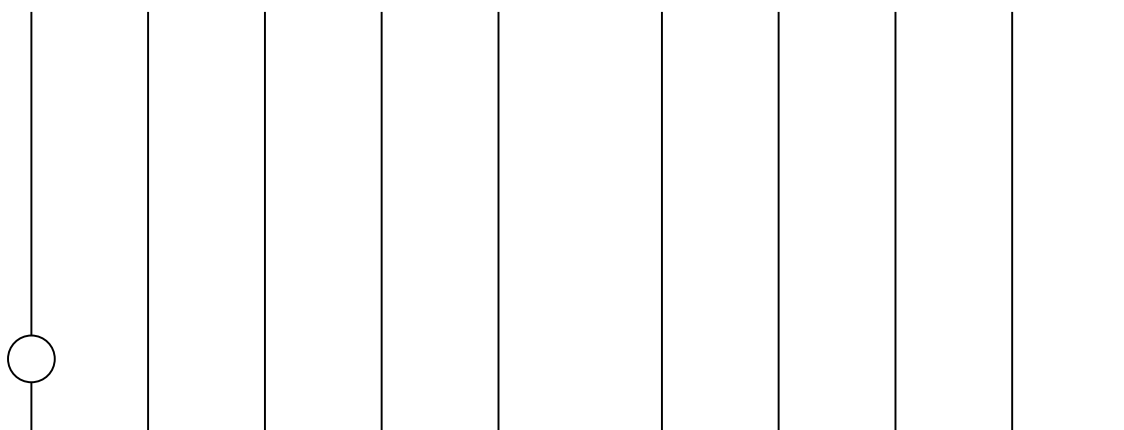
			
<input type="text"/>	<input type="text"/>	<input type="text"/>	<input type="text"/>

EVALUARE SUMATIVA DS-Activitate matematica

- Coloreaza primul, al treilea si al cincilea animal.



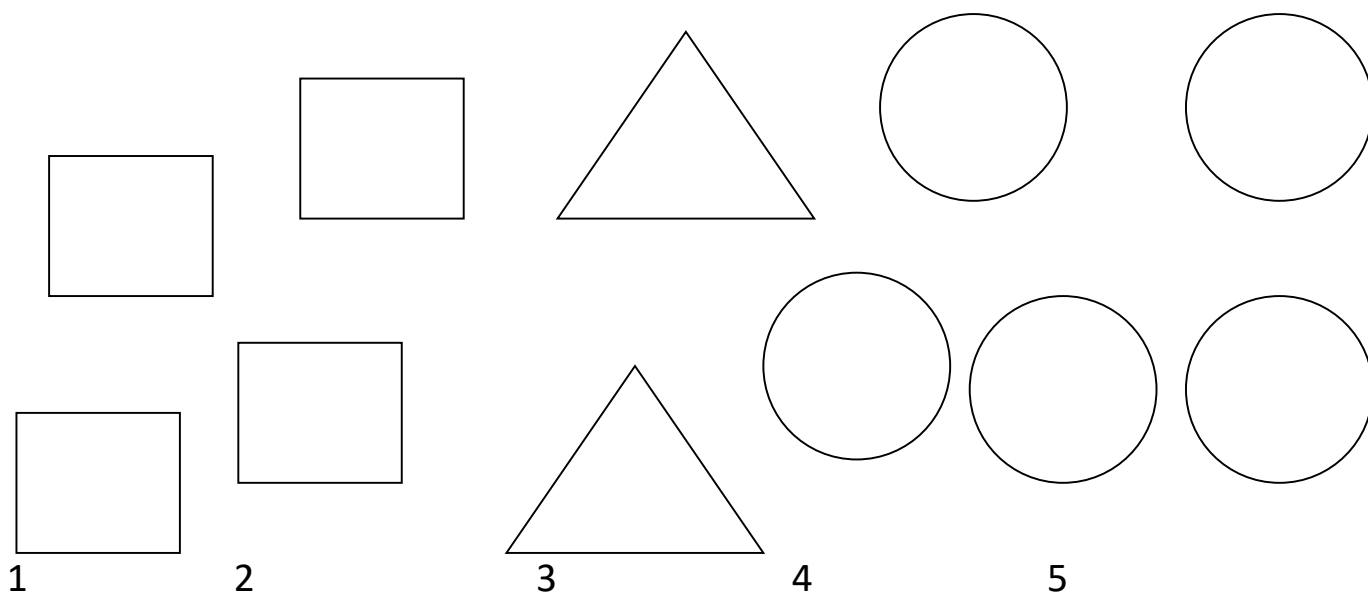
- Deseneaza atatea cerculete cate iti indica cifra, formand sirul crescator si descrescator.



1 2 3 4 5 5 4 3 2 1

- Formeaza grupe cu figurile geometrice care au aceeasi forma. Asociaza grupele formate cu cifrele corespunzatoare numarului de elemente din fiecare grupa.

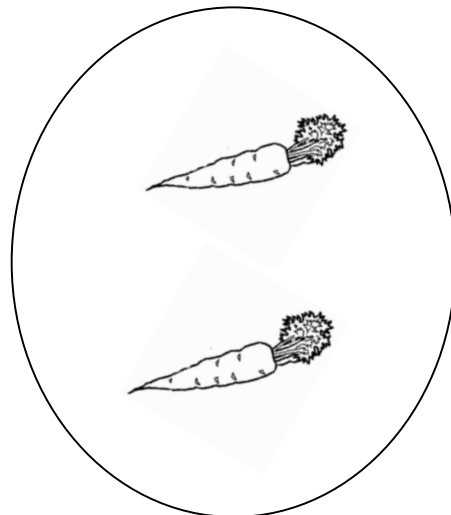

Coloreaza cu albastru triunghiurile.



EVALUARE INIȚIALĂ

DS(Matematica)

- Realizează corespondența între elementele celor două grupe. Desenează elementul lipsă, astfel încât să fie tot atâtea elemente.



- Desenează în casute tot atâtea elemente (la alegere) câte indică cifra.

1	2	3	4	5

- Colorează cu roșu patratele, cu galben triunghiurile și cu albastru cercurile.

